

❖ السؤال الأول / اكتب الأعداد بالرموز:- اكتب بالحروف:-

.....=١٢٧٩

.....=٦٠٢٩

..... = ٣٠٠٨

.....= ٩٥٤

..... = ألف وستمائة وثمانية وأربعون

..... = ألفان وستة وعشرون

..... = تسعمائة وسبع وخمسون

..... = خمسة آلاف وواحد

❖ السؤال الثاني / اقرأ العدد ثم مثل العدد على لوحة المنازل :-

| العدد | الاحاد | العشرات | المئات | آحاد الألواف |
|-------|--------|---------|--------|--------------|
| ٢٥٩٨ | | | | |
| ٢٠٧٧ | | | | |
| ١٦٥٩ | | | | |
| ٢٣٠٤ | | | | |

❖ السؤال الثالث / اكتب بالطريقة المختصرة:-

.....= ١٠٠٠+٥٠٠+٣٠+٦

..... = ٢٠+٤٠٠+٧٠٠٠

..... = ٩٠٠٠+٤٠٠+٦٦

..... = ٣٠٠٠+١٠٠ +٦

..... = ٥ آحاد+ ٦ عشرات+ ٨ مئات + ٤ آلاف

..... = ٦ عشرات+ ٣ مئات+ ٥ آلاف

..... = ٣٤ مائة وسبعة عشر

..... = ٥٨٠ عشرة+ ٨

❖ السؤال الرابع اكتب بالطريقة الموسعة :

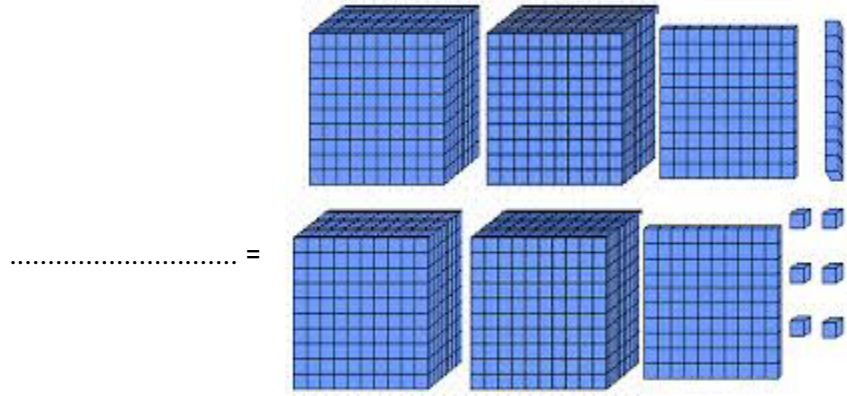
..... = ٥٦٠٩ = آحاد + عشرات + مئات + آلاف

..... = ٩٨٣٢ = + + +

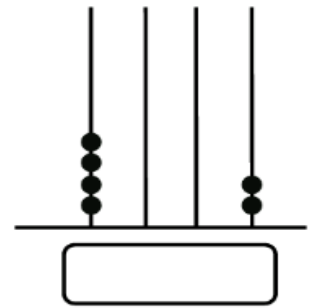
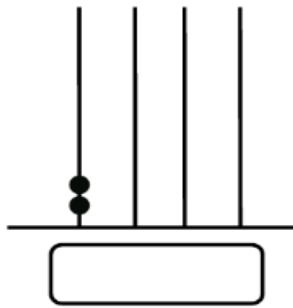
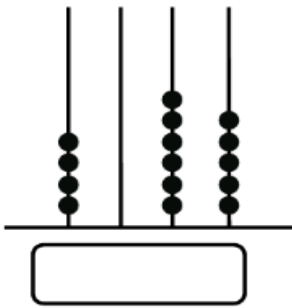
..... = ٢٠٠٦ = آحاد + عشرات + مئات + آلاف

..... = ٩٩٩٩ = + + +

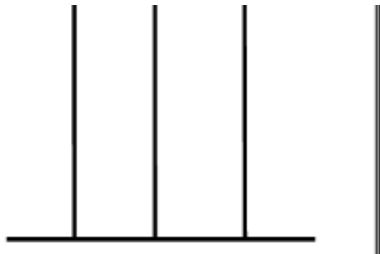
❖ السؤال الخامس / اكتب العدد التي تمثله الأجسام الحسابية (بطاقات دينز) :-



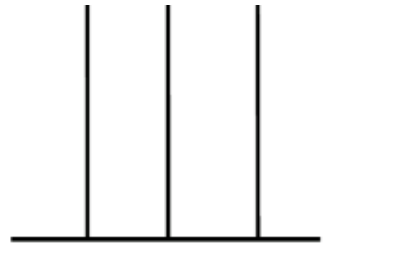
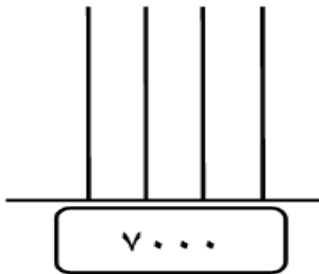
❖ السؤال السادس / اكتب العدد الممثل على المعدد:-



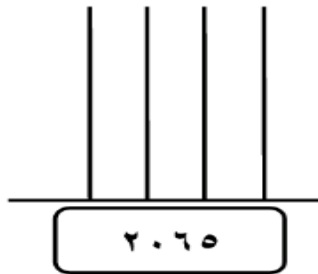
❖ السؤال السابع / مثل العدد على المعداد :-



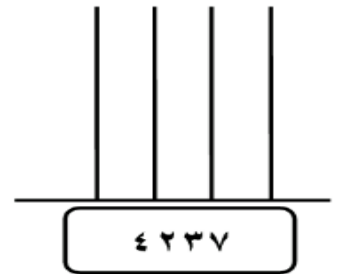
٩٥٠



٣٠٩



٦٨٠



❖ السؤال العاشر / رتب الأعداد التالية تصاعدياً:-

| | | | | |
|-------|---|-------|---|-------|
| ٣٩٩٩ | - | ٣٩٧٠ | - | ٤٠٠٠ |
| | | | | |
| ٦٠٠٥ | - | ٦٥٠٠ | - | ٦٠٥٠ |
| | | | | |

❖ السؤال الحادي عشر / رتب الأعداد تنازلياً:-

| | | | | | | |
|-------|---|-------|---|-------|---|-------|
| ٥٢٢٠ | - | ٥١٠٠ | - | ٥٤٢٠ | - | ٥٤٠٠ |
| | | | | | | |
| ٣٩٦٩ | - | ٢٢٥٦ | - | ٤٦٨٧ | - | ٧٩٨٣ |
| | | | | | | |

❖ السؤال الثاني عشر / أكمل المتتاليات الآتية :-

..... ، ، ، ، ٣٢٣٠ ، ٣٢٢٠ ، ٣٢١٠

❖ السؤال الثاني عشر / ضع إشارة (< ، > ، =) في المربع :-

| | | | | | |
|-----------|----------------------|------|--------|----------------------|------------------|
| ٥٠٠ | <input type="text"/> | ٤٠٠٠ | ٦٠٠٠ | <input type="text"/> | ٨٠٠٠ |
| ٦٠٠ | <input type="text"/> | ٦٠٠٠ | ٤٠٠٠ | <input type="text"/> | ٣٠٠٠ |
| خمسة آلاف | <input type="text"/> | ٥٠٠ | ٦٠٠٠ | <input type="text"/> | ستة آلاف |
| ٢٠٠ | <input type="text"/> | ٢٠٠ | ٩٠٠ | <input type="text"/> | ١٠+٨٠٠ عشرات |
| ٨٠٠٠ | <input type="text"/> | ١٠٠٠ | ٤ آلاف | <input type="text"/> | ٤٠٠ عشرة |
| ٧٠٣٢ | <input type="text"/> | ٧٠٢٣ | ١٤٠٠ | <input type="text"/> | أربعة آلاف وواحد |
| ٥٦٢٠ | <input type="text"/> | ٦٥٢٠ | ٤٨٧١ | <input type="text"/> | ٤٣٢٠ |

❖ السؤال الثالث عشر / اكتب قيمة الاعداد الممثلة في لوحة المنازل:-

| آحاد | عشرات | مئات | آحاد الألوفا |
|------|-------|------|--------------|
| ٣ | ١ | ٠ | ٩ |
| | | | |

| آحاد | عشرات | مئات | آحاد الألوفا |
|------|-------|------|--------------|
| ٧ | ٠ | ٥ | ٧ |
| | | | |

❖ السؤال الرابع عشر / اكتب حسب المطلوب :-

| | | | | | | |
|-------|---|-------|---|-------|---|-------|
| ٤٢٣٢ | - | ٣٠٧٥ | - | ٣٨١٤ | - | ٦٤٣١ |
| | | | | | | |
| ٧٩٨٤ | - | ٦٥٤٣ | - | ٥٤٠٨ | - | ٣٥٢٧ |
| ↓ | | ↓ | | ↓ | | ↓ |
| | | | | | | |
| ١٢٥٧ | - | ٥٨٧١ | - | ٢٥٠٧ | - | ١٤٨٥ |
| | | | | | | |

❖ السؤال الخامس عشر / قرب حسب المطلوب :-

١٢٠ لأقرب مئة =

٣٢٨٠ لأقرب الف =

٢٧ لأقرب عشرة =

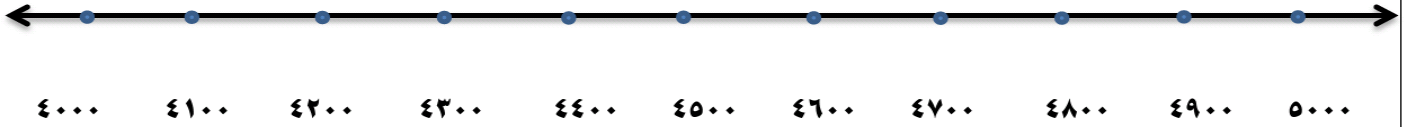
٩٨ لأقرب عشرة =

٩٧ لأقرب مئة =

٨٤٠ لأقرب الف =


٧٥٠ لأقرب مئة =

❖ السؤال الخامس عشر / تأمل خط الاعداد ثم قرب حسب المطلوب :-



- العدد ٤٧٠٠ يقع بين العددين و.....
- العدد ٤٢٠٠ يقع بين العددين و.....
- العدد ٤٦٠٠ أقرب للعدد
- العدد ٤٣٠٠ أقرب للعدد
- العدد الزوجي الأقرب للعدد ٤٠٠٠.....
- العدد الفردي الأقرب للعدد ٤٠٠٠.....

❖ السؤال السابع عشر :- اكتب العد السابق والعد التالي للأعداد التالية :-



-٤٨٠.....
-٦٣٦.....
-١٢٨٩.....
-٩٩٩.....
-١٩٩٩.....

تحياتي لكم بالنجاح

أ. سمر أبو شربين

