


هيا نتعلم الرياضيات  
خطوة بخطوة  
للفصل الأول ابتدائي  
الفصل الدراسي الأول  
الجزء الثاني  
من الدرس رقم 13 إلى الدرس رقم 23



اسم التلميذ:....  
الفصل:  
اسم المعلم:....

أتقدم بإهداء هذا العمل إلى

أبناءنا وبناتنا

للمصف الأول ابتدائي

حيث بذلت فيه قصارى جهدي لىخدم العملية التربوية بشكل  
عام بما فيها المعلمين والمعلمات والتلاميذ والتلميذات .

ولقد حرصت كل الحرص إن أتم بالمادة العلمية

لمادة الرياضيات للمصف الأول ابتدائي

من جميع جوانبها وأعرضها بشكل مبسط ومشوق وسهل


الاستخدام من قبل المعلم والمعلمة والتلميذ والتلميذة

فأرجو أن يحوز على رضا الجميع

حقوق تنسيق الملزمة محفوظة للأستاذة / نور الرياض

## قائمة الموضوعات


رقم الصفحة	الموضوع	رقم الدرس
	العدد 6	13
	العدد 7	14
	العدد 8	15
	العدد 9	16
	العدد صفر	17
		18
	ترتيب الأعداد ( العدد السابق - العدد التالي )	19
	العد حتى 9 تصاعدياً وتنازلياً	20
	الجمع	21
	رمز الجمع والتساوي	22
	الصفر في الجمع	23




## ورقة عمل الدرس 13/ العدد 6

الاسم / ..... الفصل / .....

إحاطة كل ستة عناصر بخط مغلق:-




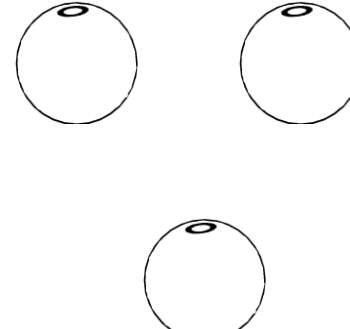

كتابة العدد 6:-



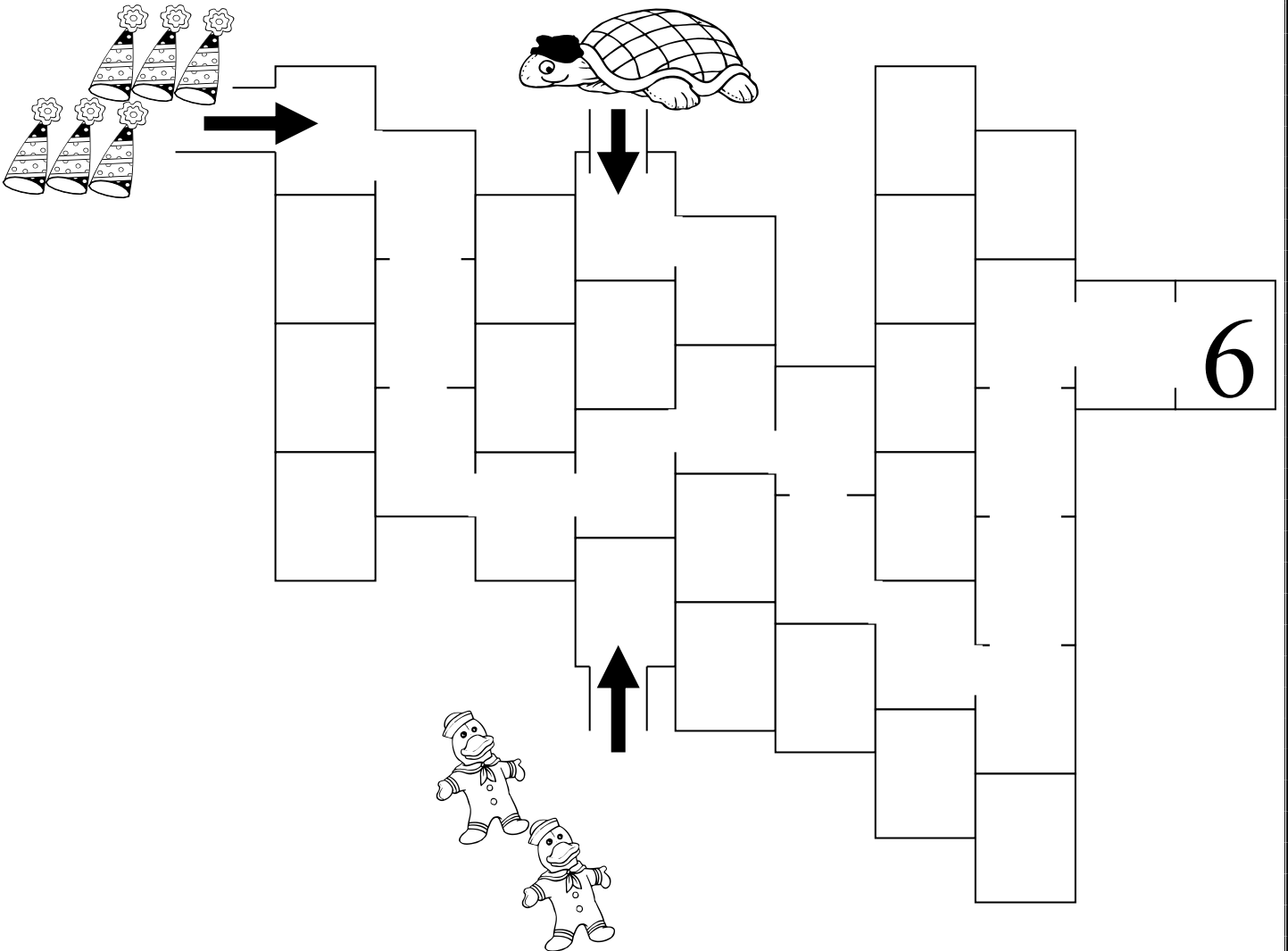
# 6


6	6	6	6	6

إحاطة العدد المناسب:-

											
4	6	5	2	6	3	4	5	6	5	4	3

اختيار الطريق الذي يصل بين العدد 6 والمجموعة المناسبة:-






## ورقة عمل الدرس 14/ العدد 7

الاسم / ..... الفصل / .....

إحاطة كل سبعة عناصر بخط مغلق:-




كتابة العدد 7:-



# 7


7	7	7	7	7

أوصل المجموعة بالعدد المناسب:




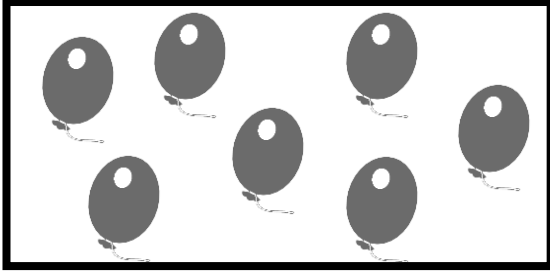
3

7



6

2



كتابة العدد المناسب تحت الشكل بعد ملاحظة الصورة:






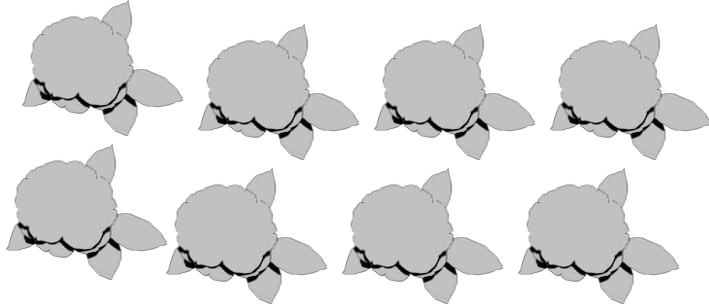

## ورقة عمل الدرس 15/ العدد 8

الاسم / ..... الفصل / .....

إحاطة كل ثمانية عناصر بخط مغلق:-




كتابة العدد 8:-



8	8	8	8	8

اضع دائرة وألون حول الشكل الذي عليه الرقم 8:-





كتابة العدد المناسب داخل المربع :-

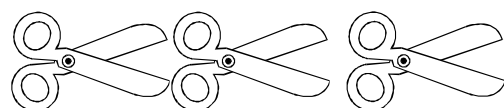
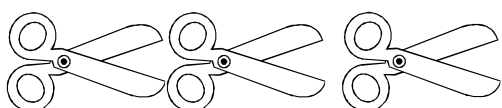
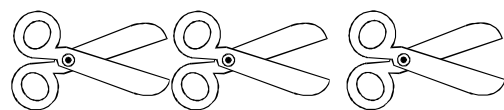
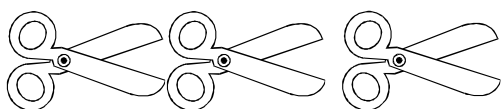
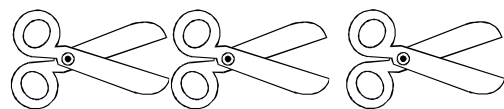
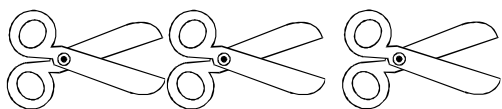



ورقة عمل الدرس 16/ العدد 9


الفصل /

الاسم /

إحاطة كل تسعة عناصر بخط مغلق:-





كتابة العدد 9:-



9

9	9	9	9	9






4



2





9



1


5

اكتب العدد المناسب داخل المربع :-



ورقة عمل الدرس 17 / العدد صفر

الاسم / ..... الفصل / .....




كتابة العدد 0:-








0

0	0	0	0	0


ابحث عن الرقم 0 و اضع عليه دائرة:








كتابة العدد السابق والعدد التالي للعدد 6:



ملاحظة الصور وكتابة العدد المناسب امام الشكل:




# ورقة عمل الدرس 19/ ترتيب الأعداد (العدد السابق - العدد التالي)



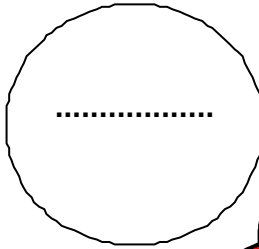

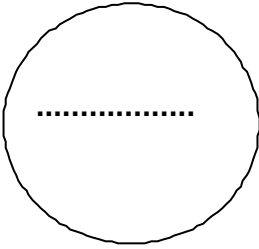
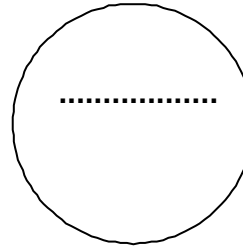


الاسم / ..... الفصل / .....



كتابة العدد الذي يسبق مباشرة العدد المعطى:











# ورقة عمل الدرس 20/العد حتى 9 تصاعدياً وتنازلياً

الاسم/ ..... الفصل/ .....


كتابة العدد المناسب في الفراغ ليكون العد تصاعدياً 9:



9		7	6				1	0
---	--	---	---	--	--	--	---	---

اكمل العد تصاعدياً بكتابة الأعداد المناسبة في الفراغات :

			4			1	
				4			0
		7			4		



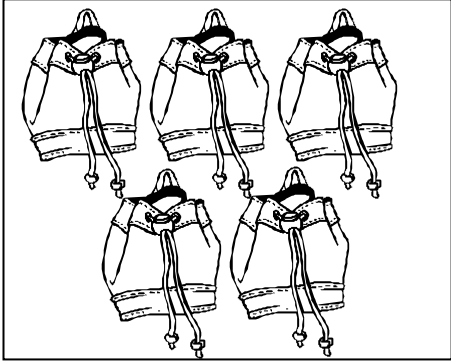


## ورقة عمل الدرس 21/الجمع

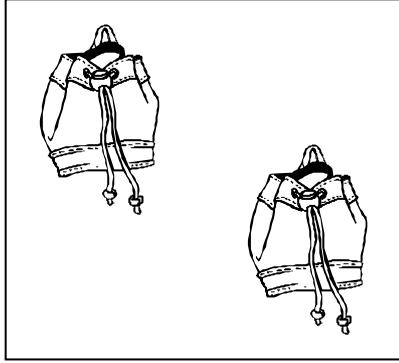
الفصل/.....

الاسم/.....


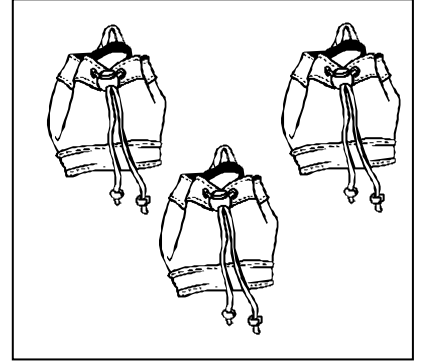
كتابة العدد المناسب داخل المربع :




مجموعهما





و




مجموعهما



و



مجموعهما



و








## ورقة عمل الدرس 22/ رمز الجمع والتساوي

الاسم / ..... الفصل / .....




كتابة العدد المناسب داخل المربع وقراءة جملة الجمع:



=



+



=



+



=





+






ملزمة الرياضيات للصف الأول ابتدائي - الفصل الدراسي الأول إعداد وتصميم / نور الرياض



الحقوق محفوظة لنور الرياض ولا يسمح بنسخها لغري أو حذف معرفي منها والله لا اسمح تخاني



الجمع العمودي:



	<input type="text"/>	+
	<input type="text"/>	
	<input type="text"/>	



الجمع الأفقي:

		=	<input type="text"/>	+	<input type="text"/>
					

	<input type="text"/>	+
	<input type="text"/>	
	<input type="text"/>	

		=	<input type="text"/>	+	<input type="text"/>

	<input type="text"/>	+
	<input type="text"/>	
	<input type="text"/>	

		=	<input type="text"/>	+	<input type="text"/>

# ورقة عمل الدرس 23/الصف في الجمع



..... الفصل /

الاسم /

كتابة العدد المناسب داخل المربع وقراءة جملة الجمع:

