



وزارة التربية والتعليم العالي
غزة - فلسطين

اجابة أسئلة الكتاب المدرسي في مبحث الدراسات الاجتماعية



متابعة واشراف

شارك في الاعداد

مشرفو ومشرفات مبحث الدراسات الاجتماعية

معلمو المبحث

أ. محمد المملوك

أ. سميرة فرحات

أ. أدهم الصلاحات

أ. علاء قويدر

أ. اعتماد سكيك

أ. بسام العطار

أ. سمر أبو منديل

العام الدراسي ٢٠١٩م / ٢٠٢٠م

الوحدة

الأولى

الدرس الاول : امتداد الدولة الاسلامية في قارة اسيا

السؤال الاول: اختر الاجابة الصحيحة فيما يأتي :-

- ١- ماذا يحد قارة اسيا من الشمال (المحيط الهادئ - المحيط الهندي - المحيط المتجمد الشمالي ، المحيط الأطلسي)
- ٢- ما المضيق الذي يفصل بين قارتي اسيا وامريكا الشمالية (بيرنج - باب المنذب - هرمز - جبل طارق)
- ٣- ما اقدم مدينة في التاريخ (دمشق - اريجا - القدس - الرياض)
- ٤- من القائد الذي تولي الفتوحات في المنطقة الشرقية في قارة اسيا (المغيرة بن شعبة - عقبة بن نافع - قتيبة بن مسلم - طارق بن زياد)

السؤال الثاني: اكمل الفراغات بما يناسبها في الجمل الاتية:-

- ١- اعلي قمة جبلية في فلسطين هي جبل الجرمق
- ٢- بلغ عدد سكان قارة اسيا عام ٢٠١٦ م ٤٣٦ مليار ٤٣٦ مليون نسمة
- ٣- أقصى اتساع للدولة الاسلامية في شرق قارة اسيا هو حدود الصين والهند
- ٤- فُتحت مدينة عمورية في العصر العباسي

السؤال الثالث: اختر المفهوم المناسب واصله في المكان المخصص له :-

(الاعاصير المدارية - خطوط الطول ودوائر العرض - منطقة السند - الموقع الجغرافي -)

| الموقع الجغرافي | موقع المكان بالنسبة لليابس والمساحات المائية المجاورة |
|-------------------------|--|
| الاعاصير المدارية | رياح نشطة، مصحوبة بأمطار غزيرة |
| خطوط الطول ودوائر العرض | خطوط ودوائر وهمية رسمها العلماء على الخرائط بهدف تحديد المواقع على سطح الارض |
| بلاد السند | المنطقة الواقعة شرقي إيران |

السؤال الرابع: احدد الموقع الفلكي لقارة اسيا: -

- الحل // ١- تقع قارة اسيا بين دائرتي عرض ١٠° جنوب خط الاستواء الي ٨٣° شمال خط الاستواء
٢- وتقع بين خطي طول ٢٥° الي ١٨٠° شرق خط جرينتش

السؤال الخامس: أفسر ما يأتي: -

- ١- تنوع مظاهر السطح في قارة اسيا الحل// بسبب اتساع قارة اسيا وامتدادها
- ٢- المناطق الشمالية في اسيا باردة صيفاً وشتاءً الحل// بسبب قربها من القطب الشمالي.

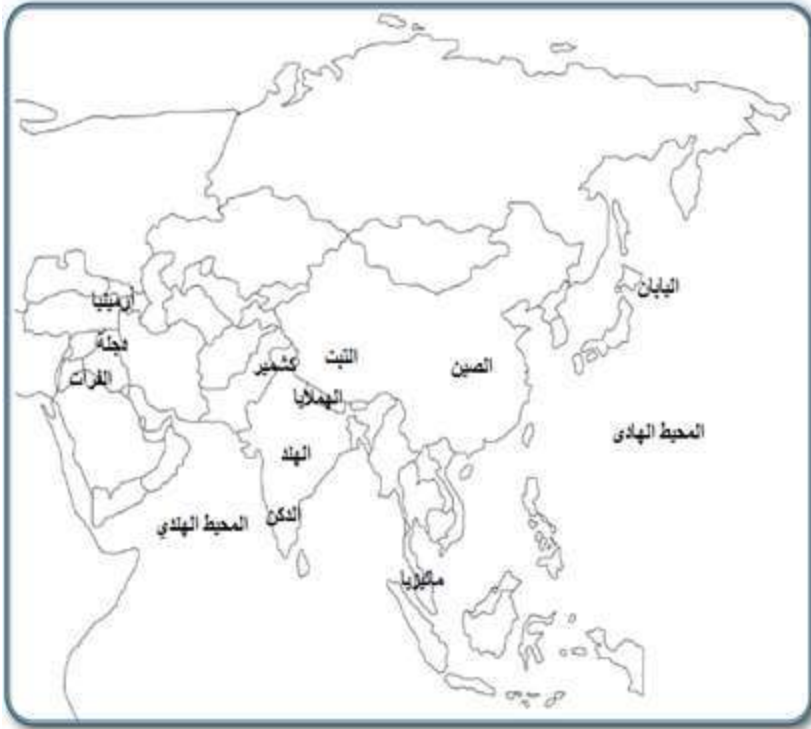
السؤال السادس: ابين الخصائص التي تتميز بها قارة اسيا: -

- ١- تأتي في المرتبة الاولى من حيث عدد السكان (٤مليارات و٤٣٦ مليون نسمة) ومن حيث المساحة (٤٤ مليون كم٢).
- ٢- فيها اكثر بحار العالم ملوحة (البحر الميت) وتصل نسبة ملوحته حوالي ٣٤%.
- ٣- تمتاز قارة اسيا بتعرج سواحلها وكثرة موانئها.
- ٤- تحتوي على مجموعة من التناقضات (يوجد فيها أبرد مناطق العالم "سيبيريا" وأكثرها حرارة " صحراء الربع الخالي" واطول بقاع العالم " افرست " واخفضها " البحر الميت").
- ٥- يوجد في قارة اسيا أقدم عاصمة وهي (دمشق).
- ٦- يوجد في قارة اسيا أقدم مدينة وهي (اريجا).
- ٧- تمتلك قارة اسيا ما نسبته ٣٢% من مساحة الاراضي الزراعية. ٨. فيها ثروات معدنية . ٩ فيها دول صناعية

السؤال السابع الاعمال التي قام بها العباسيون في قارة اسيا؟

- أ- الحفاظ على الحدود.
- ب- استرداد المناطق التي كان يحتلها البيزنطيون.
- ت- فتح مناطق الثغور (مناطق الحدود) وتحصينها وتسكين المسلمين فيها.
- ث- فتح مدينتي طرطوس (سوريا) وعمورية (تركيا).

السؤال الثامن: أعين علي خريطة قارة أسيا الصماء ما يأتي :-



الجبال: الهملايا

الهضاب: التبت والدكن

الانهار: دجلة والفرات

الدول: اليابان والهند وماليزيا وأرمينيا والصين

المحيطات: الهندي والهادئ

الدرس الثاني: امتداد الدولة الاسلامية في قارة افريقيا

السؤال الاول: اِختار الاجابة الصحيحة فيما يأتي:

- ١- ما اعلي جبال قارة افريقيا (اطلس - طوبقال - كلمنجارو - الهكار)
- ٢- ما دائرة العرض الرئيسة التي تمر من وسط قارة افريقيا (مدار السرطان - مدار الجدي - خط الاستواء - خط غرينتش)
- ٣- ما المضيق الذي يصل قارة افريقيا مع قارة اوروبا (بيرنج - جبل طارق - قناة السويس - باب المنذب)
- ٤- ما اطول انهار قارة افريقيا (الكونغو - النيجر - الزمبيزي - النيل)
- ٥- ما ترتيب قارة افريقيا من حيث المساحة بين قارات العالم (الاولي - الثانية - الثالثة - الرابعة)
- ٦- اين استشهد عقبة بن نافع (القيروان - برقة - تهوده - قرطاجة)

السؤال الثاني: افسر ما يأتي:

- ١- قلة الموانئ الطبيعية على سواحل قارة افريقيا؟
لان سواحل قارة افريقيا شبه مستقيمة وقليلة التعاريج
- ٢- تعاكس الفصول في القسم الجنوبي عن القسم الشمالي في قارة افريقيا؟
بسبب امتداد خط الاستواء ومداري السرطان والجدي من قارة افريقيا

السؤال الثالث: اوضح اهم خصائص قارة افريقيا؟

- ١- تأتي قارة افريقيا في المرتبة الثانية بين قارات العالم من حيث المساحة (٣٠ مليون كم^٢).
- ٢- يبلغ عدد سكان قارة افريقيا حوالي مليار و٢٠٣ مليون نسمة.
- ٣- تأخذ قارة افريقيا شكل المثلث تتسع في الشمال وتضيق في الجنوب.
- ٤- يوجد في قارة افريقيا أكبر هضاب العالم من حيث المساحة (هضبة الصحراء الافريقية الكبرى)
- ٥- سواحل قارة افريقيا شبه مستقيمة وقليلة التعاريج ما ادي الي قلة الموانئ الطبيعية.
- ٦- لا تزال قارة افريقيا غير متطورة من الناحية الاقتصادية بسبب الصراعات والحروب والجفاف
- ٧- عانت القارة من تجارة الرقيق خلال الاحتلال الأوروبي

السؤال الرابع: احسب عدد دوائر العرض وخطوط الطول التي تمتد عليها القارة الافريقية ؟

- عدد دوائر العرض هي $37 + 35 = 72$ دائرة عرض
- عدد خطوط الطول هي $17 + 51 = 68$ خط طول

السؤال الخامس: أوازن بين درجات الحرارة في قارة افريقيا صيفاً وشتاءً؟

اولاً: القسم الشمالي: -

صيفاً:

- 1- ترتفع درجات الحرارة في القسم الشمالي وتعتدل قرب السواحل.
- 2- تسقط الامطار الموسمية الصيفية على (جنوب السودان – ووسط السودان – وهضبة الحبشة)

شتاءً:

- 1- تنخفض درجات الحرارة بشكل عام في الاجزاء الشمالية.
- 2- تسقط الامطار الشتوية على سواحل البحر المتوسط بسبب المنخفضات الجوية القادمة من البحر المتوسط والمحيط الاطلسي.

ثانياً: القسم الجنوبي: -

صيفاً:

- 1- ترتفع الحرارة في الاقسام الجنوبية بشكل عام بسبب تعامد الشمس على مدار الجدي.
- 2- تسقط الامطار الموسمية الصيفية على السواحل الشرقية للقارة.

شتاءً:

- 1- تنخفض الحرارة بشكل عام في الاقسام الجنوبية.
- 2- تسقط الامطار على السواحل الجنوبية الغربية للقارة بسبب هبوب الرياح العكسية.

السؤال السادس: اوضح امتداد الدولة الاسلامية في قارة افريقيا خلال العصرين الاموي والعباسي؟

- 1- استأنف المسلمون في العصر الاموي فتوحاتهم في قارة افريقيا.
- 2- بني عقبة بن نافع مدينة القيروان في افريقيا لتكون قاعدة للمسلمين هناك.
- 3- قام عقبة بحملة عسكرية كبرى وصل فيها الي المحيط الاطلسي واستشهد اثناء عودته في منطقة تهوده.
- 4- تولي الفتوحات بعد عقبة بن نافع القائد حسان بن النعمان الذي تمكن الانتصار على البربر والاستيلاء على معظم الغرب.
- 5- أكمل موسى بن نصير فتح ما تبقي من مناطق في افريقيا.
- 6- عن طريق التجار والدعاة المسلمين انتشر الاسلام في مناطق كثيرة من افريقيا.

السؤال السابع: أعين على خريطة قارة أفريقيا الصماء ما يأتي: -

الانهار: النيل، الكونغو، النيجر.

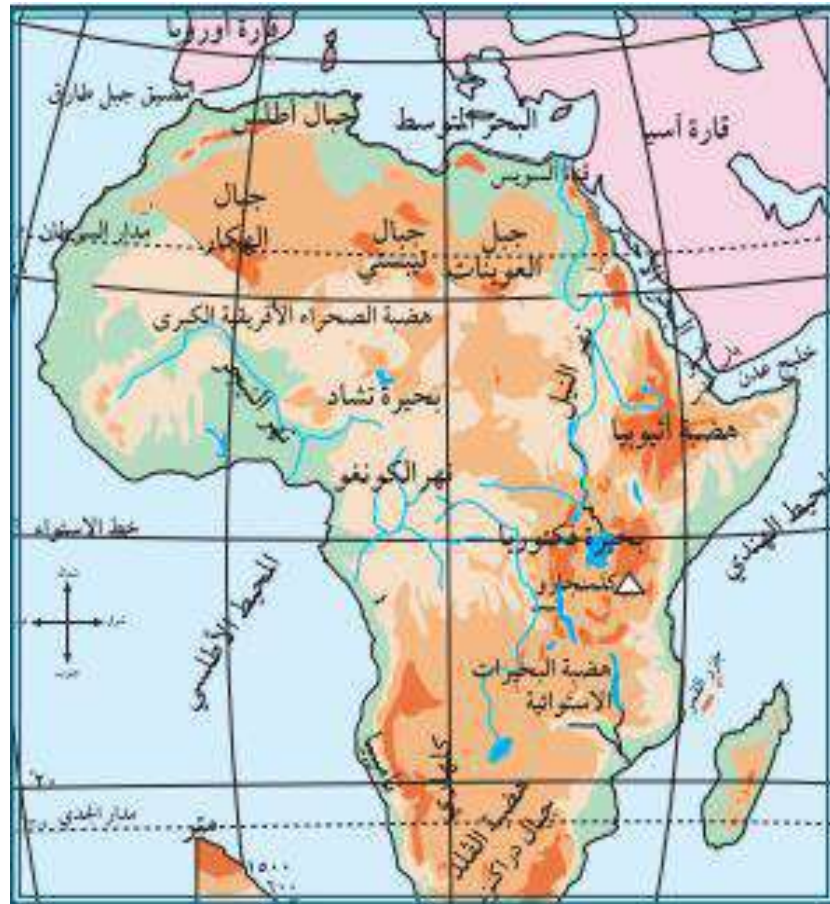
المحيطات: الاطلسي، الهندي.

الجبال: أطلس، كلمنجارو.

الهضاب: هضبة الصحراء الافريقية الكبرى.

البحار والمضائق: البحر المتوسط، مضيق جبل طارق.

المدن: القيروان.



الدرس الثالث : امتداد الدولة الاسلامية في قارة اوروبا

السؤال الاول: اختر رمز الاجابة الصحيحة فيما يأتي: -

- ١- ما المرتبة التي تحتلها قارة اوروبا من حيث عدد السكان
(الاولي - الثانية - الثالثة - الرابعة)
- ٢- ما الصفتان اللتان تغلب على مناخ قارة اوروبا
(الحرارة والجفاف - الاعتدال والحرارة - الجفاف والبرودة - الاعتدال والبرودة)
- ٣- من مؤسس الدولة الاموية في الاندلس
(عبد الرحمن الغافقي - موسي بن نصير - الوليد بن عبد الملك - عبد الرحمن الداخل)

السؤال الثاني: أكمل الفراغات بما يناسبها من الجمل الاتية

- ١- تقع قارة اوروبا الي الغرب من قارة اسيا.
- ٢- يحد قارة اوروبا من الغرب المحيط الاطلسي.
- ٣- اعلي جبال قارة اوروبا جبل مونت بلان (القمة البيضاء).
- ٤- الجبال التي تفصل اسبانيا عن فرنسا هي جبال الپيرانس.
- ٥- انتصر طارق بن زياد علي الاسبان في معركة وادي لكة عام ٧١١هـ/٧١١م.

السؤال الثالث: أفسر ما يأتي:

- ١- تطور الصناعة في قارة اوروبا؟
- ٢- لانها القارة التي بدأت فيها الثورة الصناعية ومنها انتشرت الي العالم وفيها شبكة موصلات متطورة
- ٣- طول سواحل قارة اوروبا؟ بسبب كثرة التعاريج فيها.

السؤال الرابع: ابين النتائج التي تترتب على معركة بلاط الشهداء؟

- ١- هزيمة المسلمين في هذه المعركة.
- ٢- استشهاد القائد عبد الرحمن الغافقي.
- ٣- توقف الفتوحات الاسلامية البرية في قارة اوروبا.

السؤال الخامس: أصف التركيب السكاني في المجتمع الاسلامي الاندلسي؟

- يتكون من خليط من العناصر السكانية وهي:
- ١- المسلمون من العرب والبربر.
 - ٢- طبقة المولدين: وهم الذين ولدوا في الاندلس من اباء مسلمين وامهات اسبانيات.
 - ٣- الاسبان الذين ظلوا عل ديانتهم المسيحية

٤ - الصقالبة: وهم الاوروبيون الذين كانوا يأتون للأندلس.

السؤال السادس: ابين امتداد الفتوحات الاسلامية في أوروبا في العصر العباسي: -

الحل // فتحوا بعض جزر البحر المتوسط منها: كريت وصقلية وجزر البليار

السؤال السابع: أعين على خريطة قارة أوروبا الصماء ما يأتي: -

المحيطات: الاطلسي، المتجمد الشمالي

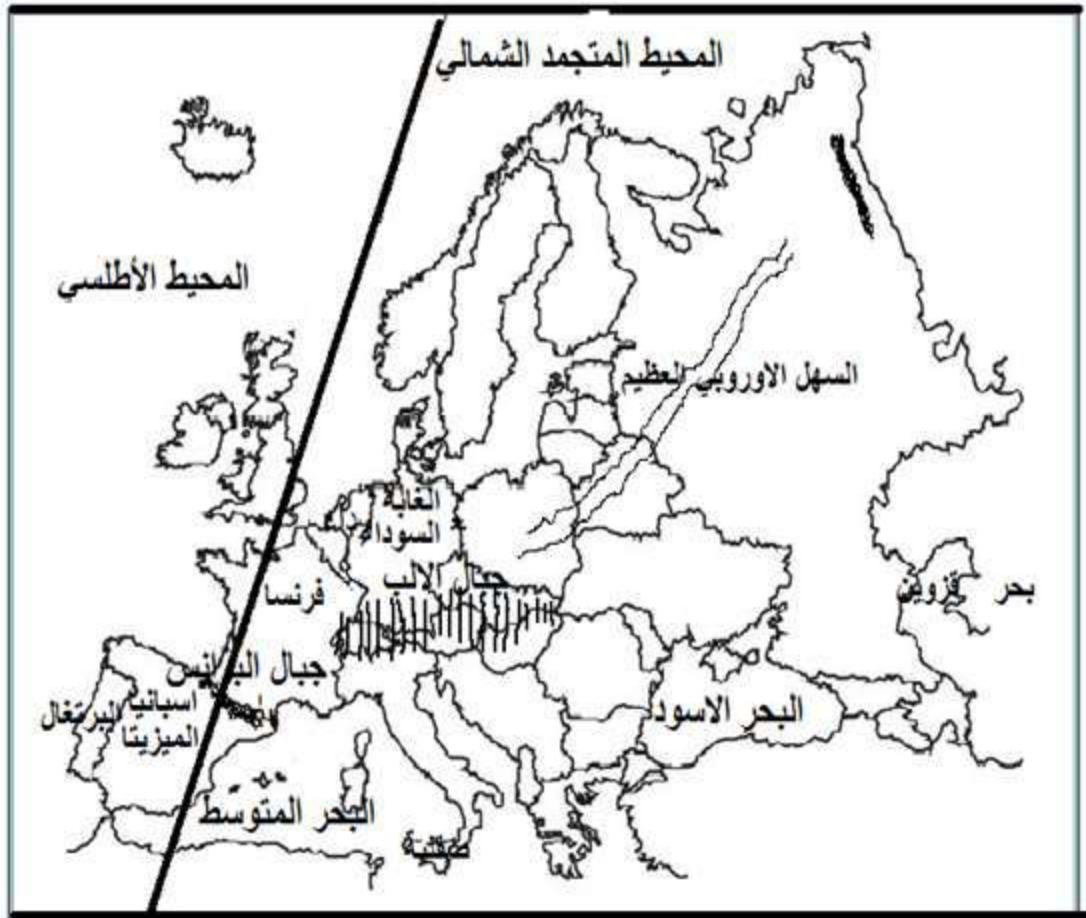
البحار: المتوسط، الاسود

الجبال: الالب، البرانس

الهضاب: المزيتا، الغابة السوداء

السهول: السهل الاوروبي العظيم

الدول: فرنسا، صقلية، اسبانيا، البرتغال



الدرس الرابع : قارة امريكا الشمالية

السؤال الاول: اختار الاجابة الصحيحة فيما يأتي: -

- ١- كم تبلغ مساحة قارة امريكا الشمالية
(٢ مليون كم^٢ - ٩.٥ مليون كم^٢ - ٢٤ مليون كم^٢ - ٤٤ مليون كم^٢)
- ٢- ماذا يحد قارة امريكا الشمالية من الغرب
(المحيط المتجمد الشمالي - المحيط الهادئ - المحيط الاطلسي - البحر الكاريبي)
- ٣- بماذا تعرف المرتفعات الشرقية في قارة امريكا الشمالية
(جبال سيرامديرا - جبال روكي - جبال الانديز - جبال الابلاش)

السؤال الثاني: احدد الموقع الفلكي لقارة امريكا الشمالية؟

- الحل // ١- تقع امريكا الشمالية بين دائرتي عرض ١٥° الي ٨٣° شمال خط الاستواء
٢- وتقع امريكا الشمالية بين خطي طول ٤٨° الي ١٧٠° غرب خط غرينتش

السؤال الرابع: أصف مناخ قارة امريكا الشمالية صيفاً؟

- الحل // ترتفع درجات الحرارة صيفاً كلما اتجهنا جنوباً وتسقط على القارة امطار صيفية وتتعرض للأعاصير

السؤال الخامس: اذكر اهم الخصائص العامة لقارة امريكا الشمالية؟

- ١- ثالث قارات العالم من حيث المساحة اذ تبلغ مساحتها ٢١.٥ مليون كم^٢.
- ٢- يبلغ عدد سكان قارة امريكا الشمالية ٣٨٨ مليون نسمة.
- ٣- اقل قارات العالم من حيث عدد الدول ويبلغ عددها ٣ دول وهي (الولايات المتحدة الامريكية - كندا - المكسيك).
- ٤- من قارات العالم المتقدمة وتتميز بإنتاج زراعي وصناعي عالي.

الدرس الخامس : قارة امريكا الجنوبية

السؤال الاول: اختر رمز الاجابة الصحيحة فيما يأتي: -

- ١- ماذا يحد قارة امريكا الجنوبية من الشمال؟
(البحر الكاريبي - المحيط الهادئ - المحيط المتجمد الشمالي - المحيط الاطلسي)
- ٢- ما اهم ادول الداعمة للقضية الفلسطينية في امريكا الجنوبية؟
(كوبا - المكسيك - كندا - الولايات المتحدة الامريكية)
- ٣- كم تبلغ مساحة امريكا الجنوبية والوسطى؟
(٩ مليون كم^٢ - ١٩ مليون كم^٢ - ١٨ مليون كم^٢ - ٤٤ مليون كم^٢)

السؤال الثاني: احدد الموقع الفلكي لقارة امريكا الجنوبية.

- الحل // تقع بين دائرتي عرض ١٥° شمالاً الي ٥٦° جنوب خط الاستواء
٢ - تقع بين خطي طول ٣٥° الي ١٠٥° غرب خط غرينتش

السؤال الثالث: ابين اهم المظاهر التضاريسية في قارة امريكا الجنوبية: -

- ١- المظهر الاول: السهول الساحلية والوسطى ← تمتد بين الهضاب الشرقية وجبال الانديز .
- ٢- المظهر الثاني: المرتفعات الغربية ← تعرف بجبال الانديز.
- ٣- المظهر الثالث: الهضاب ← وهي هضبة جيانا في شمال شرق القارة وهضبة البرازيل في وسط القارة وهضبة بتاجونيا في جنوبها.

السؤال الرابع: أصف مناخ قارة امريكا الجنوبية؟

- ١- صيفاً: ترتفع درجات الحرارة على القارة وتعتدل على السواحل وتسقط الامطار الصيفية.
- ٢- شتاءً: تنخفض درجات الحرارة وتسقط الامطار.

السؤال الخامس: اذكر اهم الخصائص العامة لقارة امريكا الجنوبية؟

- ١- تبلغ مساحة القارة حوالي ١٨ مليون كم^٢ وعدد سكانها ٦٦٠ مليون نسمة.
- ٢- يتركز معظم سكانها في السواحل والسهول الفيضية وتقل في سواحل الامازون وقمم الجبال والهضاب.
- ٣- تتخذ قارة امريكا الجنوبية شكل المثلث رأسه في الجنوب يسمى (هورن) وقاعدته في الشمال.
- ٤- استقامة سواحلها مما ادي الي قلة موانئها الطبيعية.
- ٥- وجود بعض الدول الداعمة للقضية الفلسطينية مثل كوبا وفنزويلا.

الدرس السادس : قارة اوقيانوسيا

السؤال الاول: اضع اشارة (/) او (x) امام العبارات التالية :-

- ١- (x) يتميز سكان قارة اوقيانوسيا بأنهم شعب واحد .
- ٢- (x) البرودة هي الصفة الغالبة علي مناخ قارة اوقيانوسيا .
- ٣- (/) سورينام من الدول التي انضمت الي منظمة التعاون الاسلامي .
- ٤- (x) تشمل قارة اوقيانوسيا دولة استراليا فقط .
- ٥- (x) تقع قارة اوقيانوسيا الي الغرب من خط غرينتش .

السؤال الثاني: احدد الموقع الجغرافي لقارة اوقيانوسيا ؟

الحل // تحيط بها المياه من جميع الجهات

السؤال الثالث: اعدد المظاهر التضاريسية في قارة اوقيانوسيا؟

- ١- السهول الساحلية والفضية .
- ٢- الهضاب أهمها (الهضبة الغربية) .
- ٣- المرتفعات الجبلية أهمها (جبال الالب الاسترالية).

السؤال الرابع: ابين الخصائص العامة لقارة اوقيانوسيا؟

- ١- أصغر قارات العالم من حيث المساحة اذ تبلغ مساحتها ٩ مليون كم^٢ .
- ٢- يبلغ عدد سكانها حوالي ٤٠ مليون نسمة وهم مزيج من شعوب مختلفة.
- ٣- تسمح قوانين القارة بالهجرة اليها.
- ٤- تعد الزراعة وتربية الاغنام وصيد الاسماك من اهم الحرف.
- ٥- تمتاز القارة بانها قليلة التعرجات.
- ٦- تحتوي علي أكبر حاجز مرجاني في العالم.

السؤال الخامس:

أبين طرق انتشار الاسلام في قارات أمريكا الشمالية، والجنوبية، وأوقيانوسيا: -

الحل // عن طريق المهاجرين والتجار والدعاة وتجارة الرقيق

الوحدة

الثانية

الدرس الاول: الانجازات الادارية في الدولة الاسلامية

السؤال الاول: اختار الاجابة الصحيحة فيما يأتي:

- ١- من الخليفة الذي استحدث منصب ولاية العهد
(عمر بن الخطاب - عثمان بن عفان - معاوية بن ابي سفيان - عبد الملك بن مروان)
- ٢- في أي عصر تم تعريب الدواوين
(الراشدي - الاموي - العباسي - الفاطمي)
- ٣- كيف كان العرب قبل الاسلام يتحاكمون فيما بينهم؛ للفصل بالخصومات
(الاجماع - المحاكم - العادات والتقاليد - القران الكريم)
- ٤- من اول من تقلد منصب الوزارة في الدولة الاسلامية
(ابو سلمة الخلال - يحيى البرمكي - معاوية بن ابي سفيان - الحجاج بن يوسف الثقفي)

السؤال الثاني: اختار المفهوم المناسب واصله في المكان المخصص له:-

(القضاء - الديوان - ولاية العهد)

| | |
|-------------|--|
| ولاية العهد | يعهد اليه الخليفة او الحاكم بتولي الحكم من بعده. |
| القضاء | الفصل بين الناس في الخصومات طبقا لأحكام الشريعة الاسلامية. |
| الديوان | المكان الذي تحفظ فيه السجلات الرسمية. |

السؤال الثالث: استنتج العوامل التي ادت الي ظهور الدواوين؟

- ١- توسع الدولة الاسلامية
- ٢- الحاجة لاستحداث نظم ادارية جديدة
- ٣- تنظيم شؤون الدولة المختلفة

السؤال الرابع: في ضوء دراستي للنظام القضائي في الدولة الاسلامية، ناقش الاتي: -

١- مدي تحقيق العدالة الاجتماعية في الدولة الاسلامية؟

- الحل //** تم انشاء ديوان المظالم الذي يشبه محكمة الاستئناف العليا ويعد قاضي المظالم اعلي سلطة من القاضي العادي، وينظر هذا الديوان (ديوان المظالم) في تعدي الولاة وذوي السلطة على الرعية مما ادي الي المساواة بين الحاكم والمحكوم
- ٢- اهمية استقلال مؤسسة القضاء في العصر الحديث في تحقيق العدالة الاجتماعية؟
- الحل //** لأنها من المؤسسات المهمة في أي دولة وهي التي تشرف على الفصل بين الناس ومعاينة اللصوص والخارجين عن القانون فيجب ان تكون مستقلة حتى لا تأثر عليها أي سلطة اخري

السؤال الخامس: ناقش اهتمام المسلمين بإنشاء الاسطول البحري في الدولة الاسلامية؟
بعد ان فتح المسلمون بلاد الشام ومصر وشمال افريقيا أصبح لهم شواطئ بحرية طويلة ممتدة علي
البحر المتوسط واصبحت هذه المدن الساحلية عرضة لهجمات الاسطول البيزنطي، فتم انشاء اول
اسطول اسلامي في بلاد الشام واستطاعوا السيطرة علي البحر المتوسط وفتحوا معظم جزره وحاصروا
القسطنطينية عاصمة البيزنطيين.

الدرس الثاني: الانجازات المعمارية في الدولة الاسلامية

السؤال الاول: اختر رمز الاجابة الصحيحة فيما يأتي: -

- ١- من بني مدينة القيروان
(موسي بن نصير - طاق بن زياد - عقبة بن نافع - عمرو بن العاص)
- ٢- ما المباني التي بدأت بها العمارة الاسلامية
(المساجد - القلاع - القصور - الاسواق)
- ٣- اين يقع قصر عمرة
(في الاردن - في فلسطين - في مصر - في العراق)
- ٤- ما الهدف من اقامة الادوار السفلية في القصور الاسلامية
(للتدرب على القتال - لقضاء وقت الراحة - لإقامة النساء - للاستقبالات)

السؤال الثاني: اضع علامة (/) او (x) امام العبارات التالية :-

- ١- (x) اشتملت العمارة الاسلامية علي التماثيل البشرية .
- ٢- (/) تميزت بيوت السكن الاسلامية بالمداخل الملتوية .
- ٣- (x) خصصت الادوار السفلية من القصور الاسلامية للنساء .
- ٤- (/) بدأت العمارة الاسلامية ببناء مسجد قباء في المدينة المنورة .

السؤال الثالث: اعدد اقسام المباني الحربية: -

- ١- القلاع
- ٢- الحصون
- ٣- الابراج
- ٤- الاسوار

السؤال الرابع: علل ما يأتي: -

- ١- اهتمام الدولة الاسلامية بإقامة المباني الحربية؟
لتحصين وحماية المدن الاسلامية من الاعداء والغزاة
- ٢- قيام الخلفاء المسلمين بإقامة القصور خارج المدن؟
أ- بني بعضهم بيوتهم في البادية لقضاء وقت الراحة بعيدا عن المدينة
ب- وبعضهم بنوها على الجبال للإقامة فيها صيفاً، والبعض الاخر بنوها في مناطق دافئة لفصل الشتاء
ت- وبعضهم بنوها في مناطق بعيدة للابتعاد عن المدينة عندما تنتشر الامراض المعدية.

السؤال الخامس: ابين مميزات العمارة الاسلامية:-

- ١- توافقها مع تعاليم الاسلام ومبادئه.
- ٢- احترامها للعادات والتقاليد العربية الاسلامية.
- ٣- النقش على الحجارة والكتابة على الجدران بالخطوط الجميلة.
- ٤- اعتمدت على عناصر معمارية مختلفة مثل (الاعمدة والاقواس والمقرنصات والمشربيات والمدخل المتوي والطرق المتعرجة).
- ٥- وجود الفناء المكشوف في المباني الواسعة كالمساجد.

السؤال السادس: ناقش توافق العمارة الاسلامية مع العادات والتقاليد العربية الاسلامية:-

احتراما لتعاليم الاسلام ومبادئه واحتراما للعادات والتقاليد خلت المباني الدينية من ذوات الارواح حيث تم استبدالها بالزخرفة بأشكال هندسية او رسومات نباتية والنقش على الحجارة والكتابة بالخطوط الجميلة على الجدران

السؤال السابع: ابين اسباب قيام الدولة الاسلامية ببناء المدن:-

- ١- بناء مدن كمعسكرات حربية مثل (القيروان في تونس)
- ٢- بناء مدن لأغراض ادارية مثل (واسط في العراق)
- ٣- بناء مدن كعواصم للدول مثل (بغداد في العراق - القاهرة في مصر)
- ٤- مدن كانت بداية مناطق تحصينيه للدفاع ومع مرور الزمن تحولت الي الطابع المدني مثل (الرباط في المملكة المغربية)

الدرس الثالث : نماذج من الانجازات المعمارية الاسلامية في فلسطين

السؤال الاول: ضع اشارة (/) او (x) امام العبارات التالية :-

- ١- (/) يبلغ طول سور القدس حوالي ٤٠٠٠ متر .
- ٢- (x) بنيت قبة الصخرة ايام الدولة العباسية .
- ٣- (/) صدر قرار مجلس الامن الدولي (٢٥٢) عام ١٩٦٨ م .
- ٤- (/) حول الاحتلال الصهيوني اسم حائط البراق الي حائط المبكي .

السؤال الثاني: اختار رمز الاجابة الصحيحة فيما يأتي :-

- ١- ماذا يحد فلسطين من الجهة الشرقية (العراق - اليمن - مصر - الاردن)
- ٢- من السلطان العثماني الذي بني سور القدس الحالي (سليمان القانوني - سليم الاول - مراد الرابع - عبدالحميد الاول)
- ٣- في أي عصر بنيت مدينة الرملة (العباسي - الاموي - المملوكي - العثماني)
- ٤- أي المواقع الاتية يقع بالقرب منها قصر الصنبرة (بحيرة الحولة - البحر الميت - بحيرة طبريا - بحيرة الناصر)

السؤال الثالث: اعلل ما يأتي :-

- ١- اهتمام الدولة الاموية بفلسطين.
السبب // بسبب مكانتها الدينية المقدسة
- ٢- قدسية ارض فلسطين عند المسلمين.
السبب // لوجود المسجد الأقصى فيها ولأنها اولي القبلتين وثالث الحرمين ومسري الرسول صل الله عليه وسلم

السؤال الرابع: اعدد ابواب مدينة القدس :-

- | | |
|------------------|----------------|
| ١-باب الخليل | ٢-باب الجديد |
| ٣-باب العمود | ٤-باب الساهرة |
| ٥-باب الاسباط | ٦-باب المغاربة |
| ٧-باب النبي داود | |

السؤال الخامس: اسمي مدنا فلسطينية تقع في السهل الساحلي الفلسطيني :-

- عكا - حيفا - يافا - المجدل - عسقلان - غزة - خانينوس - رفح

السؤال السادس: ابين بعض الاجراءات الصهيونية الهادفة الي طمس المعالم العربية الاسلامية في مدينة القدس :-

- ١- مصادرة الاراضي الفلسطينية في القدس وبناء عليها المستوطنات.
- ٢- التضييق على السكان الفلسطينيين لإرغامهم علي ترك القدس واحلال المستوطنين مكانهم.
- ٣- سحب الاحتلال الصهيوني هوية سكان القدس وفصلها عن محيطها العربي.
- ٤- ضم الاحتلال الصهيوني المعالم الاسلامية في القدس (كحائط البراق) الي قائمة التراث الصهيوني.
- ٥- حول الاحتلال الصهيوني اسم حائط البراق الي حائط المبكي.
- ٦- هدم الاحتلال حي المغاربة وتغيير طابعه العربي والاسلامي
- ٧- ازالة بعض الحجارة من سور القدس واستبدالها بأخرى عليها رسومات واشكال صهيونية.
- ٨- افتتح الاحتلال الكنائس الصهيونية في البلدة القديمة في مدينة القدس.
- ٩- يحاول الاحتلال الصهيوني هذه الايام السيطرة على الحرم القدسي الشريف.

الدرس الرابع: الانجازات العلمية في الدولة الاسلامية

السؤال الاول: اختار رمز الاجابة الصحيحة فيما يأتي: -

- ١- اين اسس العباسيون بيت الحكمة (في بغداد - في القاهرة - في دمشق - في الاندلس)
- ٢- من ألف كتاب صحيح البخاري (المقدسي - مجير الدين الحنبلي العليمي - ابو الحسن مسلم - محمد بن اسماعيل البخاري)
- ٣- من مؤسس الكتابة الفنية وواضع اصولها وقواعدها (عبد الله بن المقفع - الخوارزمي - عبد الحميد الكاتب - حسان بن ثابت)
- ٤- من اسباب اهتمام العرب بعلم الجغرافيا (انحسار رقعة الدولة الاسلامية - توسع النشاط الصناعي - اداء مناسك الحج - تطوير علم الرياضيات)

السؤال الثاني: اختار المفهوم المناسب واصله في المكان المخصص له:-

(الحديث - النثر - علم الفلك - الاسطرلاب)

| | |
|---|-----------|
| الكلام غير الموزون. | النثر |
| الة لرصد حركة الكواكب والنجوم. | الاسطرلاب |
| يبحث في النجوم والكواكب وحركاتها ومواقعها واسباب تغير مظاهرها وأمكنتها. | علم الفلك |

السؤال الثالث: اوفق بين الكتاب في العمود (أ) ومؤلفه في العمود (ب) فيما يأتي :-

- | | | |
|-------------------------|-------|------------------------------|
| ١ - صحيح البخاري | () | الخوارزمي |
| ٢ - القانون في الطب | (١) | محمد بن اسماعيل البخاري |
| ٣ - معجم البلدان | (٤) | ابو جعفر محمد بن جرير الطبري |
| ٤ - تاريخ الامم والملوك | (٢) | ابو علي ابن سينا |
| | (٣) | ياقوت الحموي |

السؤال الرابع: أنظم جدولاً لإنجازات المسلمين في العلوم الآتية: -

الرياضيات - الطب - الكيمياء

| | |
|-----------|---|
| الرياضيات | أخذوا عن الهنود نظام الترقيم وأوجدوا رقم الصفر |
| الطب | قاموا بأجراء العمليات الجراحية والتخدير وخياطة الجروح واستخدموا الخيوط من أمعاء الحيوانات |
| الكيمياء | تركيب الأدوية وتغليف الحبوب |

السؤال الخامس: أبن الطرق التي انتقلت بها الحضارة العربية الإسلامية إلى أوروبا: -

- 1- الاحتكاك والتواصل مع العالم الإسلامي المتمثلة في الأندلس وصقلية (الفتوحات الإسلامية في الأندلس وصقلية)
- 2- الحروب الفرنجية
- 3- التجارة والبعثات العلمية

السؤال السادس: ناقش أهمية التواصل والانفتاح بين الحضارات: -

لإيجاد بيئة دولية سلمية ومستقرة تقوم على أساس الاحترام المتبادل والمساواة بين الثقافات والحضارات المختلفة

الدرس الخامس : الانجازات الاقتصادية للدولة الاسلامية

السؤال الاول: أفسر ما يأتي: -

١ - لجوء الدولة الاسلامية الي فرض العشور على التجارة؟

لان الدول المجاورة للمسلمين مثل (الروم) كانت تأخذ من التجار المسلمين ضرائب

٢ - قيام الدولة الاسلامية بتعريب النقود؟

لان الدينار البيزنطي والدرهم الفارسي الذي كان يتعامل فيه العرب أصبح يتعرض للغش

فعمل المسلمين على ضبط وزن العملة و عيارها

السؤال الثاني: أعتبر بيت مال المسلمين اعظم مؤسسة مالية في الدولة الاسلامية، في ضوء ذلك:-

١ - ابين ثلاثة من وارداته؟

١-الزكاة ٢-الخراج ٣-الغنيمة ٤-الفيء ٥-العشور

٢ - احدد اثنتين من نفقاته؟

أ- دفع مرتبات المقاتلين والموظفين

ب-رعاية الفقراء والمساكين

ت-الانفاق على الخدمات العامة

السؤال الثالث: نفكر معا فيما تدل عليه العبارات الاتية في الكلمات المتقاطعة: -

١ - (الغنيمة) كل ما يحصل عليه المسلمون من غنائم اثناء فتوحاتهم الاسلامية.

٢ - (الركاز) ضريبة كانت تؤخذ علي كل ما يُستخرج من باطن الارض من معادن .

٣ - (الزكاة) مقدار من المال يفرض علي المسلمين القادرين ليرد علي فقراهم .

٤ - (العشور) ضريبة تؤخذ علي بضائع التجار غير المسلمين مقابل مرور تجارتهم داخل حدود

الدولة الاسلامية.

٥ - (الخراج) ضريبة كانت تفرض علي ما تنتجه الارض الزراعية التي فتحها المسلمون او

اخذوها صلحا وتقدر قيمتها حسب جودة الارض الزراعية.

٦ - (الجزية) مبلغ من المال يؤخذ من أهل الذمة (اليهود – والنصارى) مقابل حمايتهم ويعفي

منها النساء والرهبان والاطفال وغير القادرين.

الوحدة الثالثة / الدرس الأول : مؤسسات المجتمع المدني

السؤال الأول : نصنف المؤسسات الآتية إلى مؤسسات حكومية، وأخرى غير حكومية وفق الجدول أدناه:

مدرسة الشهداء الثانوية، وغرفة تجارة غزة، وصناعتها، ونقابة صيادي الأسماك، والاتحاد العام للكتاب والأدباء الفلسطينيين، والأحزاب السياسية، ووزارة التربية والتعليم العالي، والهيئة العامة للبترو، ونادي الأسير، وبلدية الخليل، وهيئة تسوية الأراضي.

مؤسسات غير حكومية

مؤسسات حكومية

| | |
|---|-------------------------------|
| غرفة تجارة غزة وصناعتها | مدرسة الشهداء الثانوية |
| نقابة صيادي الأسماك | وزارة التربية والتعليم العالي |
| الاتحاد العام للكتاب والادباء الفلسطيني | بلدية الخليل |
| الأحزاب السياسية | هيئة تسوية الأراضي |
| نادي الأسير والهيئة العامة للبترو | |

السؤال الثاني : ضعي دائرة حول رمز الإجابة الصحيحة فيما يأتي:

١. أي من هذه المؤسسات تعد من المنظمات الحكومية في فلسطين؟
ج _ لجان أموال الزكاة.

٢. ما واجب الدولة تجاه مؤسسات المجتمع المدني؟
ب _ رعايتها وتسهيل عملها.

٣- أي من هذه المؤسسات تعد من مكونات المجتمع المدني؟
ب _ وزارة الشؤون الاجتماعية.

السؤال الثالث : نذكر أبرز سمات المجتمع المدني.

١- غير ربحية.

٢- غير حكومية.

٣- تحترم التنوع والاختلاف.

٤- لا تسعى إلى الحكم.

٥- أساسها التعددية والمشاركة.

٦-تقوم على الحوار في المجتمع.

السؤال الرابع : أوضح المقصود بما يأتي :

أ)المجتمع المدني.

ب)مؤسسات المجتمع المدني.

أولاً: المجتمع المدني:

هو جميع الهيئات والمنظمات التي تعمل في مجالات حياتية مختلفة سواء اقتصادية أو سياسية أو اجتماعية أو ثقافية وتكون مستقلة عن الدولة بهدف تعزيز حقوق الانسان.

ثانياً: مؤسسات المجتمع المدني:

وهي مؤسسات يقوم بإنشائها مجموعة من الأفراد وتشمل منظمات غير حكومية وهي مؤسسات مستقلة عن القطاعين الحكومي والخاص من حيث المبدأ مثل جمعية الهلال الأحمر الفلسطيني وتهدف إلى تنمية المجتمع وتطويره.

السؤال الخامس:

أبين دور مؤسسات المجتمع المدني في فلسطين في المجالات التعليمية والصحية والزراعة.

المجالات التعليمية:

١-فتح المدارس وإنشاء الجامعات ورياض الأطفال.

٢-تنفيذ برامج ومشاريع تربوية وتعليمية

٣-عمل مسابقات ثقافية للطلاب.

المجال الصحي:

١-حملات توعية للوقاية من الأمراض .

٢-الفحوصات الدورية للمواطنين عبر العيادات المتنقلة.

٣-توفير الدواء.

٤-فتح العيادات والمستشفيات الطبية.

المجال الزراعي:

١-مداد المزارعين بالأدوات الزراعية الحديثة.

٢-شق الطرق الزراعية.

٣-اعطاء دورات للمزارعين توعية لوقاية النباتات من الأمراض.

السؤال السادس:

** بم تفسر كثرة مؤسسات المجتمع المدني في دولة ما؟
دليل على وجود نظام ديمقراطي كبير في الدولة.

السؤال السابع:

- اكتب فقرة ، أبين فيها دور الاحتلال الصهيوني في إعاقة تطور المجتمع المدني في فلسطين؟
للاحتلال الصهيوني دور كبير في إعاقة تطور المجتمع المدني في فلسطين من خلال
- ١-تشويه المنهاج الفلسطيني لطمس الهوية الوطنية.
 - ٢-التزوير في الكتب والتراث الفلسطيني.
 - ٣-الحصار المفروض الذي يحول دون وصول الدعم للمؤسسات التي تدعم المجتمع المدني.

الوحدة الثالثة / الدرس الثاني : قيم المجتمع

السؤال الأول : ضع دائرة حول رمز الإجابة الصحيحة

١. ما القيمة التي تعبر عن تخطي الإنسان عن مصالحه الشخصية من أجل الآخرين ؟
ج الايثار
٢. ما التصنيف الذي يطلق على قيمة حب الوطن والتضحية في سبيل حريته ؟ ج القيمة الوطنية
٣. أي من القيم الأتية تعد من القيم السياسية ؟ أ سيادة القانون

السؤال الثاني : وضح المقصود بالاتي :

١. القيم : مجموعة من المعايير التي نحكم من خلالها على السلوك المرغوب وغير المرغوب للأفراد
٢. القيم المدنية : المنظومة القيمية التي يعتمدها المواطن في علاقته مع الإنسان والدولة
٣. الحرية : قيمة إنسانية خالدة لا يخضع من خلالها الإنسان لقهر أو قيد وتدفعنا دوما للعمل نحو الاستقلال ولا يجوز لأي كائن المساس بها ولا يمكن للإنسان ان تتخلى عنها
٤. العدالة : مفهوم واسع تنادى به جميع الشعوب وهو نوع من المساواة بين مختلف فئات الشعب الواحد

السؤال الثالث : أذكر مثالا على كل من القيم الأتية

١. القيم الدينية مثل الايمان بالله ، العدل ، المساواة ، التسامح الخ
٢. القيم الاجتماعية : مثل التسامح ، التكافل ، الاخلاص ، الصدق ، الأمانة ، الايثار الخ
٣. القيم الاقتصادية : مثل العدالة ، عدم الاسراف ، احترام العمل ، تحريم الغش في المعاملات

السؤال الرابع : أكتب أهمية ممارسة قيمة الحرية والعدالة في المجتمع

١. الحرية * اعطاء الفرد الحرية في ممارسة قدراته في المكان الذي يختاره

- * تطوير طاقات الفرد بمجهوده الشخصي
 - * تنظيم الحياة الاجتماعية
 - * ايجاد تجانس بين فئات المجتمع
 - * ازالة الظلم ومساهمة الشعب في صناعة القوانين
- كل ذلك يصب في تقدم المجتمع ورقية من خلال أفراده وبمحض ارادتهم ومسؤولية من خلالهم

٢. العدالة :

- * تحقيق المساواة بين أفراد المجتمع دون تمييز
- تحقيق الامن والامان للجميع
- الشعور بالرضى والانصاف بين أفراد المجتمع

السؤال الخامس : أكتب ما يعبر عن ممارسة القيم الأتية في المجتمع

١. العدالة : توفير مواقف خاصة لذوى الاعاقة
٢. التسامح : العفو عن القتل بدون قصد (الحوادث)
٣. النزاهة ومحاربة الفساد (ملاحقة المجرمين ومحاكمتهم)

تم بحمد الله